

Bitte gibst in das Textfeld einen Code ein, basierend auf:

den **ersten zwei Buchstaben deines Vornamens** + den **ersten zwei Buchstaben des Vornamens deiner Mutter** + den **Tag an dem du Geburtstag** hast.

z.B., Vorname = Hanna, Vorname der Mutter= Susanne, Tag deines Geburtstages = 10.

Der Code der sich ergibt ist HASU10. Diesen Code HASU10 gibst du dann in das Textfeld ein. Dieser kann aus Klein- und/oder Großbuchstaben bestehen.  
\*

Bitte geben Sie Ihre Antwort hier ein:

## Demografische Daten

Bitte gib dein Geschlecht an. \*

Wählen Sie alle zutreffenden Optionen

Bitte wählen Sie alle zutreffenden Antworten aus:

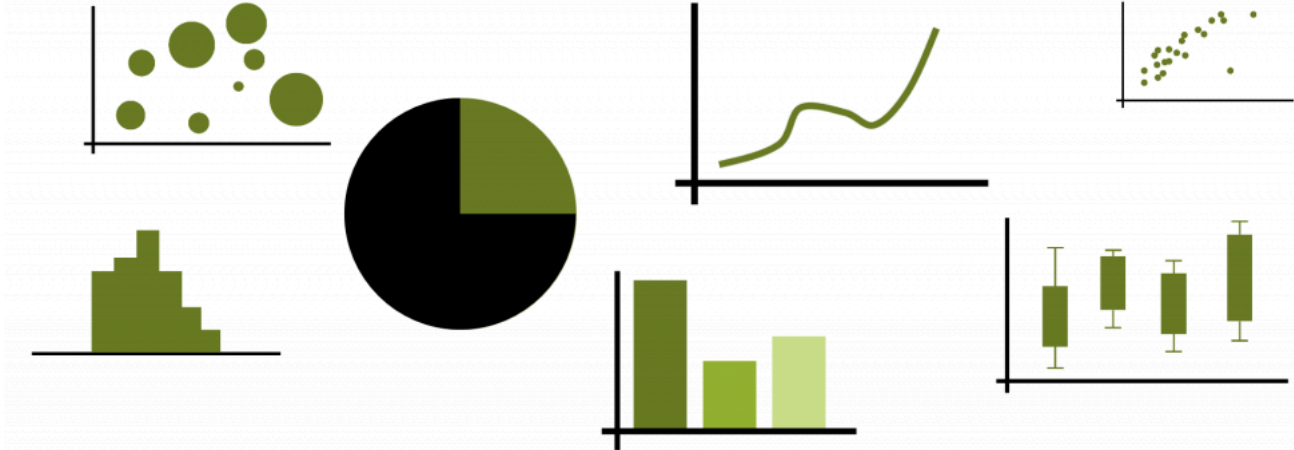
- ☐ Weiblich
- ☐ Männlich
- ☐ Divers
- ☐ Keine Antwort

Wie alt bist du? \*

In dieses Feld dürfen nur Zahlen eingegeben werden.

Bitte geben Sie Ihre Antwort hier ein:

**Bitte gib an wie viel Erfahrung du mit Diagrammen hast.**  
(Beispiele für Diagramme findest du in dieser Abbildung.)



\*

Bitte wählen Sie die zutreffende Antwort für jeden Punkt aus:

	Keine Erfahrung	Wenig Erfahrung	Erfahrung	Viel Erfahrung	Sehr viel Erfahrung
Bitte gib an wie viel Erfahrung du mit Diagrammen hast.	<input type="radio"/>	<input type="radio"/>	<input type="radio"/>	<input type="radio"/>	<input type="radio"/>

**Trägst du eine Brille oder Kontaktlinsen? \***

Bitte wählen Sie eine der folgenden Antworten:

Bitte wählen Sie nur eine der folgenden Antworten aus:

- ☐ Ja  
☐ Nein

**Bist du farbenblind? (z.B. Rot/Grün, Blau/Gelb) \***

Bitte wählen Sie eine der folgenden Antworten:

Bitte wählen Sie nur eine der folgenden Antworten aus:

- ☐ Ja  
☐ Nein

**Wenn Ja, welche Art von Farbenblindheit? \***

Beantworten Sie diese Frage nur, wenn folgende Bedingungen erfüllt sind:

Antwort war 'Ja' bei Frage ' [DQ5]' (Bist du farbenblind? (z.B. Rot/Grün, Blau/Gelb))

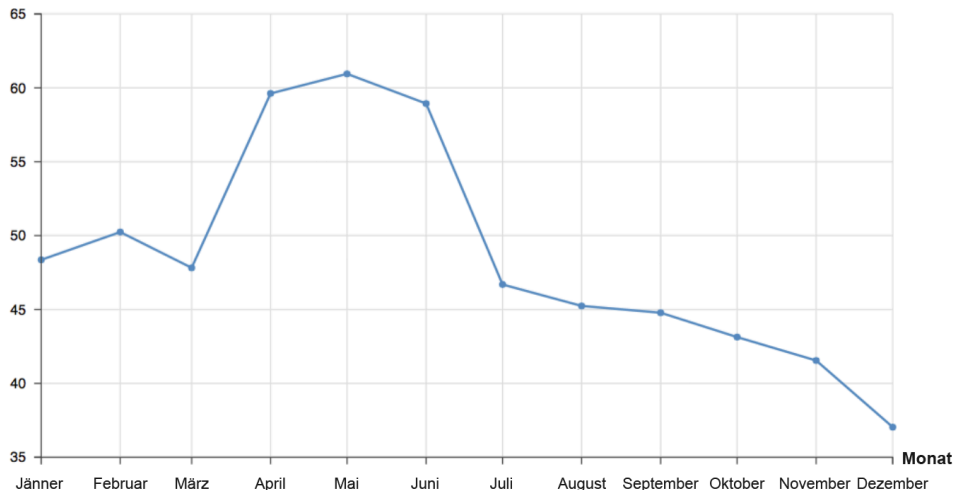
Bitte geben Sie Ihre Antwort hier ein:

**Jetzt kommen einige Diagramme. Bitte versuche die Fragen dazu so gut du kannst zu beantworten. Es ist aber absolut in Ordnung, wenn du einige oder mehrere Fragen nicht richtig beantworten kannst.**

Wie hoch war der Preis für ein Fass Öl im Februar 2015?

### Monatliche Preisentwicklung von Öl in 2015

Ölpreis (\$ pro Fass)



\*

Bitte wählen Sie eine der folgenden Antworten:

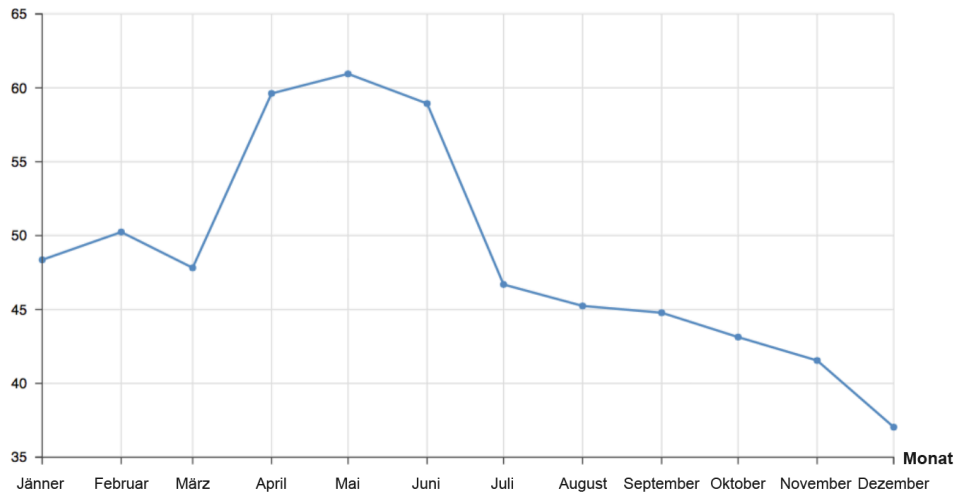
Bitte wählen Sie nur eine der folgenden Antworten aus:

- ☐ \$57,36
- ☐ \$47,82
- ☐ \$50,24
- ☐ \$39,72

In welchem Monat war der Preis für ein Fass Öl im Jahr 2015 am niedrigsten?

## Monatliche Preisentwicklung von Öl in 2015

Ölpreis (\$ pro Fass)



\*

Bitte wählen Sie eine der folgenden Antworten:

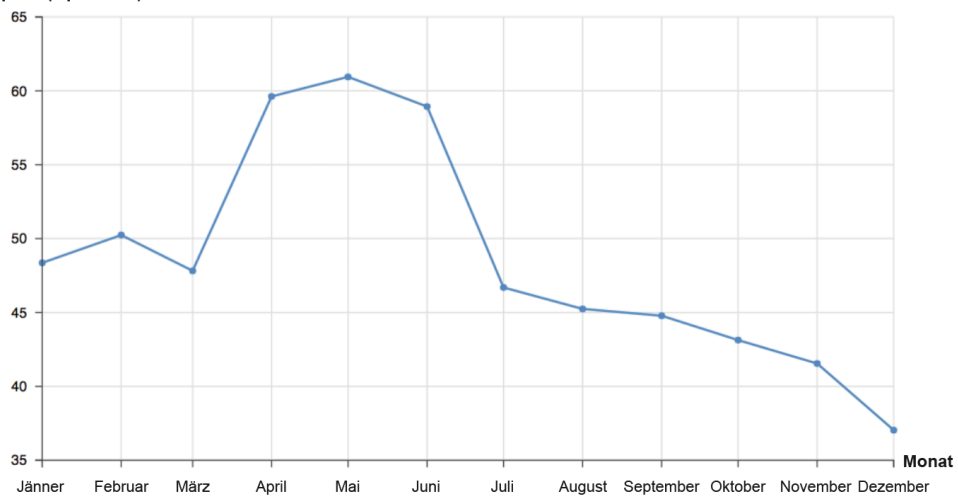
Bitte wählen Sie nur eine der folgenden Antworten aus:

- ☐ März
- ☐ Mai
- ☐ Juli
- ☐ Dezember

Wie hoch war die Preisspanne für ein Fass Öl im Jahr 2015?

## Monatliche Preisentwicklung von Öl in 2015

Ölpreis (\$ pro Fass)



\*

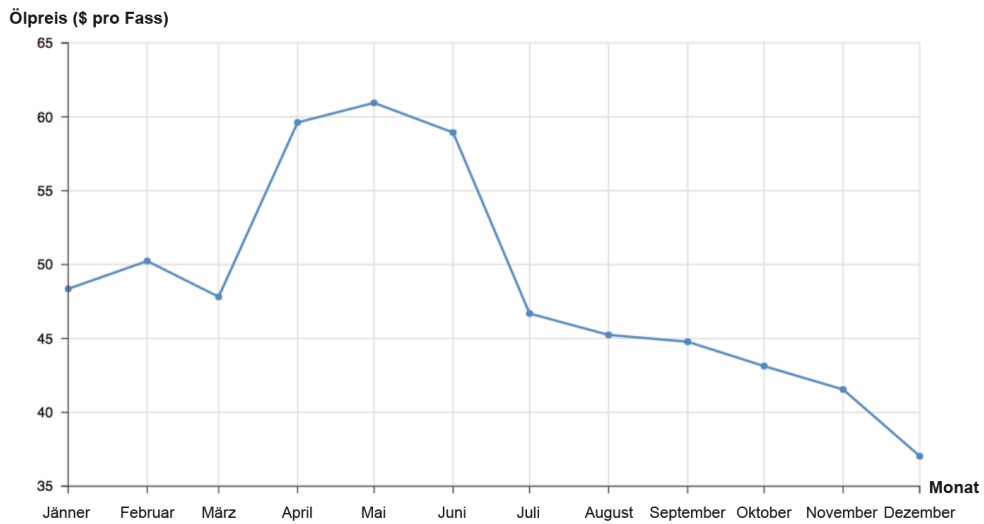
Bitte wählen Sie eine der folgenden Antworten:

Bitte wählen Sie nur eine der folgenden Antworten aus:

- ☐ \$35 - \$65
- ☐ \$48,36 - \$60,95
- ☐ \$37,04 - \$48,36
- ☐ \$37,04 - \$60,95

Der Preis von Öl ist im Laufe des zweiten Halbjahres 2015 \_\_\_\_\_.

### Monatliche Preisentwicklung von Öl in 2015



\*

Bitte wählen Sie eine der folgenden Antworten:

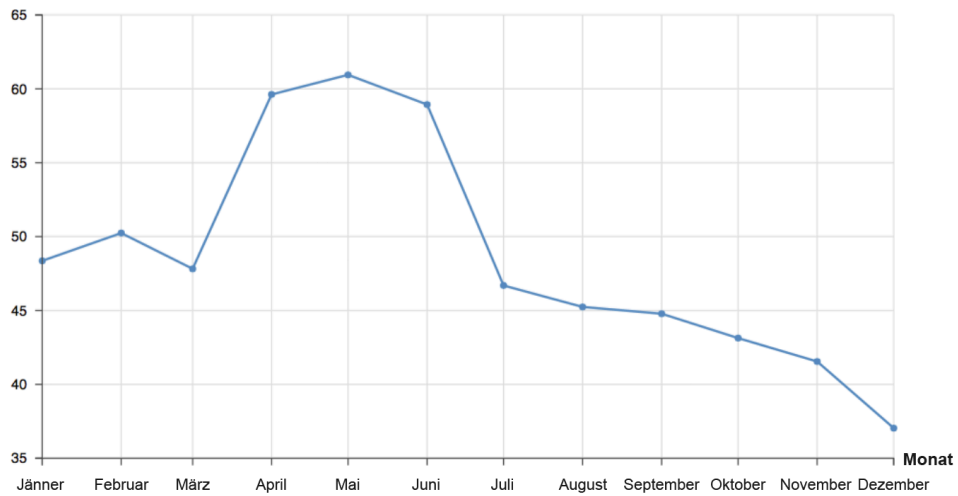
Bitte wählen Sie nur eine der folgenden Antworten aus:

- ☐ steigend
- ☐ fallend
- ☐ gleichbleibend

Um wie viel ist der Preis für ein Fass Öl im Zeitraum von April bis September 2015 gefallen?

## Monatliche Preisentwicklung von Öl in 2015

Ölpreis (\$ pro Fass)



\*

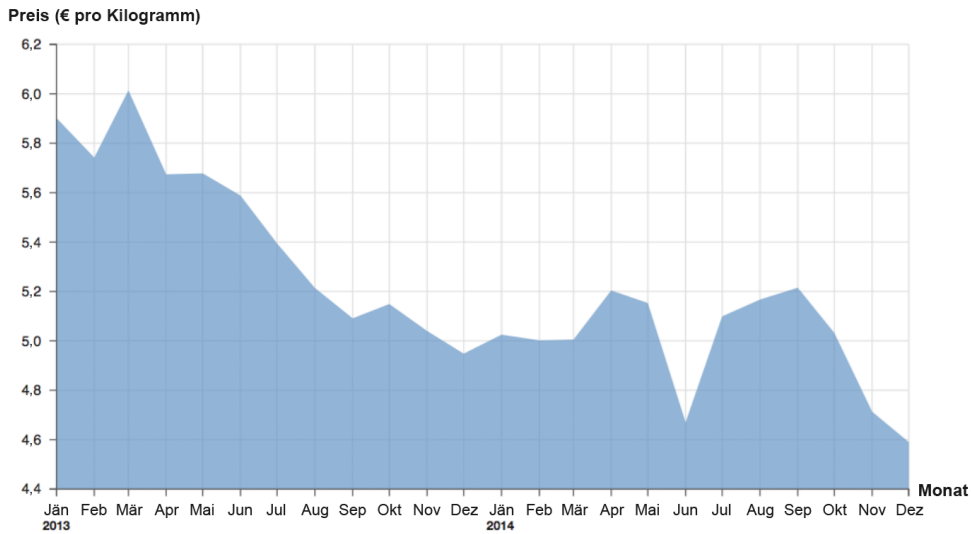
Bitte wählen Sie eine der folgenden Antworten:

Bitte wählen Sie nur eine der folgenden Antworten aus:

- ☐ \$4
- ☐ \$15
- ☐ \$17
- ☐ \$45

Wie hoch war der Preis für ein Kilogramm Kaffeebohnen im September 2013?

### Durchschnittlicher Preis von Kaffeebohnen zwischen 2013 und 2014



\*

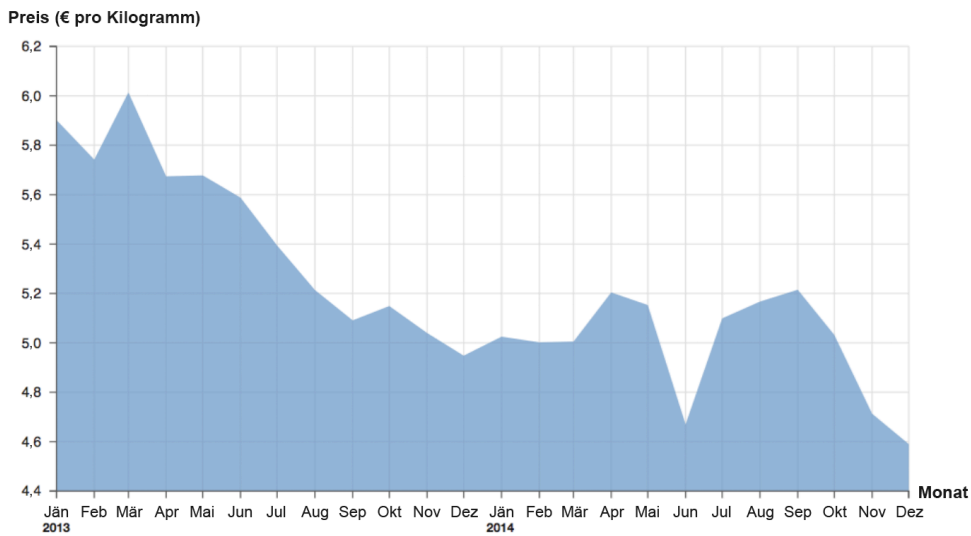
Bitte wählen Sie eine der folgenden Antworten:

Bitte wählen Sie nur eine der folgenden Antworten aus:

- ☐ €4,9
- ☐ €5,0
- ☐ €5,1
- ☐ €5,2

Wann war der Preis für ein Kilogramm Kaffeebohnen am niedrigsten?

### Durchschnittlicher Preis von Kaffeebohnen zwischen 2013 und 2014



\*

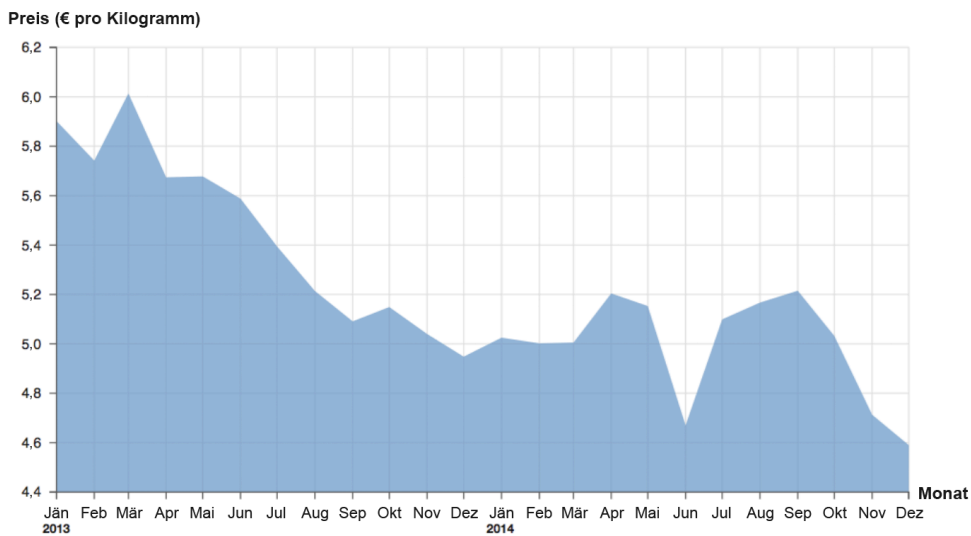
Bitte wählen Sie eine der folgenden Antworten:

Bitte wählen Sie nur eine der folgenden Antworten aus:

- ☐ April 2013
- ☐ September 2013
- ☐ Juni 2014
- ☐ Dezember 2014

Wie groß war die Preisspanne für ein Kilogramm Kaffeebohnen zwischen Januar 2013 und Dezember 2014?

### Durchschnittlicher Preis von Kaffeebohnen zwischen 2013 und 2014



\*

Bitte wählen Sie eine der folgenden Antworten:

Bitte wählen Sie nur eine der folgenden Antworten aus:

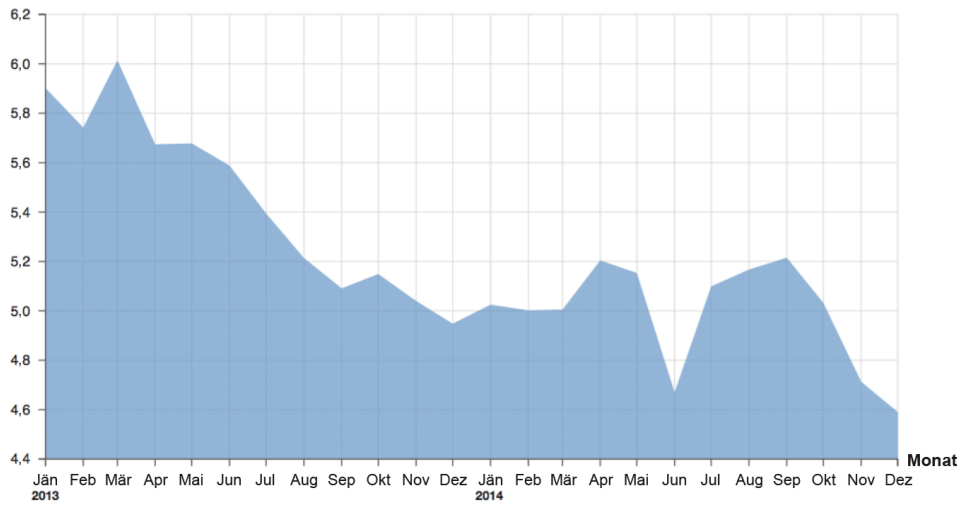
- ☐ €4,4 - €6,2
- ☐ €4,6 - €5,9
- ☐ €4,6 - €6,0
- ☐ €4,6 - €6,1

Im Laufe des Jahres 2013 ist der der Preis für einen Kilogramm Kaffeebohnen

\_\_\_\_\_.

### Durchschnittlicher Preis von Kaffeebohnen zwischen 2013 und 2014

Preis (€ pro Kilogramm)



\*

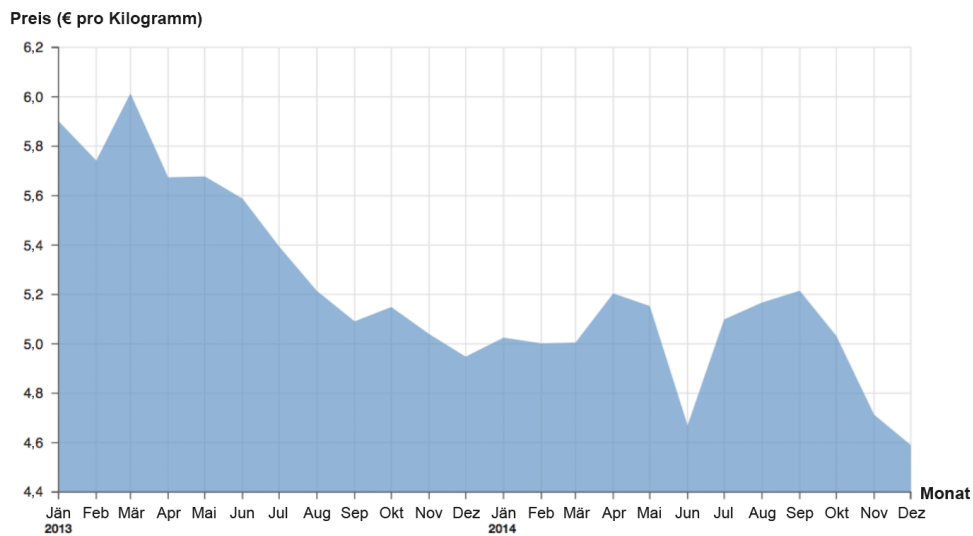
Bitte wählen Sie eine der folgenden Antworten:

Bitte wählen Sie nur eine der folgenden Antworten aus:

- ☐ gestiegen
- ☐ gesunken
- ☐ gleichgeblieben

Wie viele Monate lang war der Preis für einen Kilogramm Kaffeebohnen niedriger als im Dezember 2013?

### Durchschnittlicher Preis von Kaffeebohnen zwischen 2013 und 2014



\*

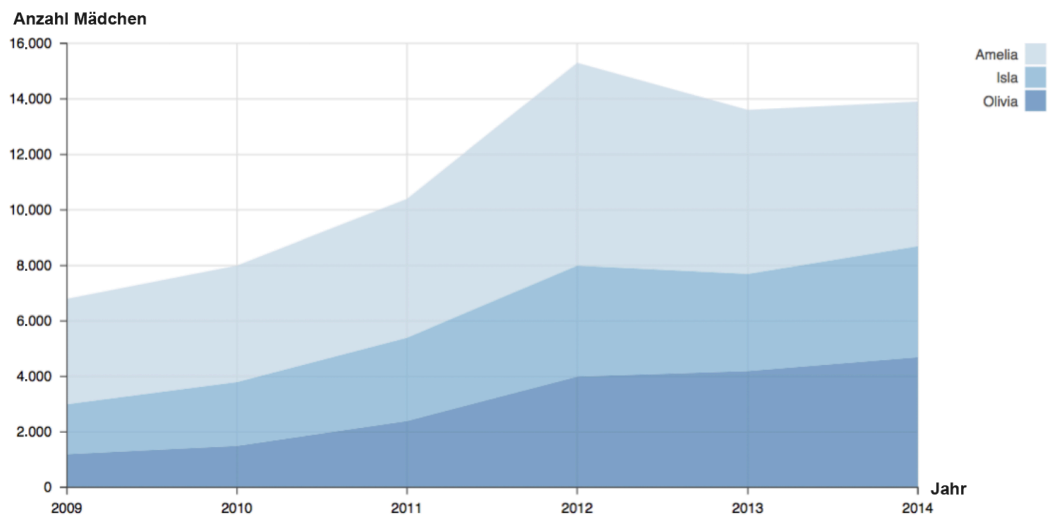
Bitte wählen Sie eine der folgenden Antworten:

Bitte wählen Sie nur eine der folgenden Antworten aus:

- ☐ 3 Monate
- ☐ 4 Monate
- ☐ 5 Monate
- ☐ 6 Monate

Wie viele Mädchen wurden im Jahr 2010 in Großbritannien "Amelia" genannt?

## Beliebte Mädchennamen im Vereinigten Königreich



\*

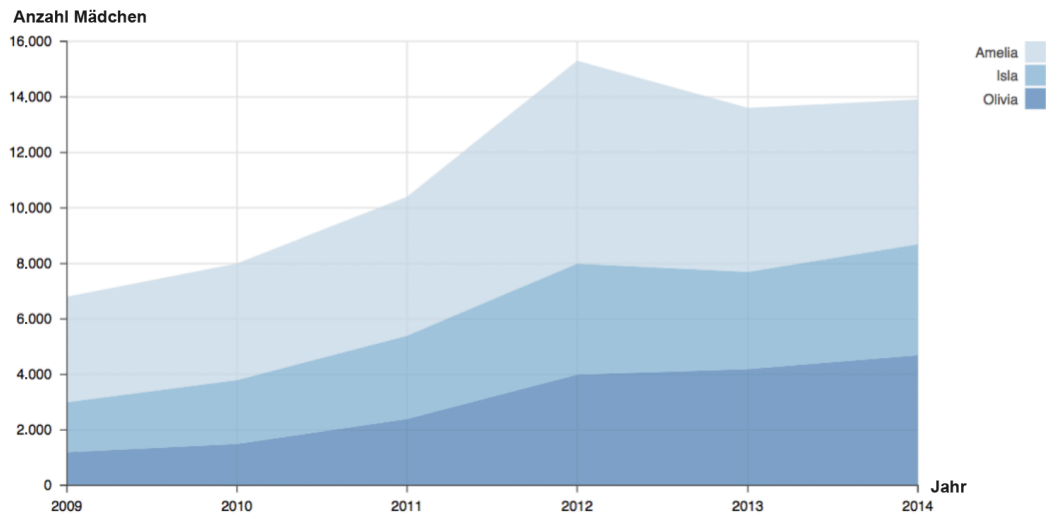
Bitte wählen Sie eine der folgenden Antworten:

Bitte wählen Sie nur eine der folgenden Antworten aus:

- ☐ 1.500
- ☐ 3.800
- ☐ 4.200
- ☐ 8.000

In welchem Jahr zwischen 2009 und 2014 war die Zahl der Mädchen mit dem Namen „Amelia“ am höchsten?

### Beliebte Mädchennamen im Vereinigten Königreich



\*

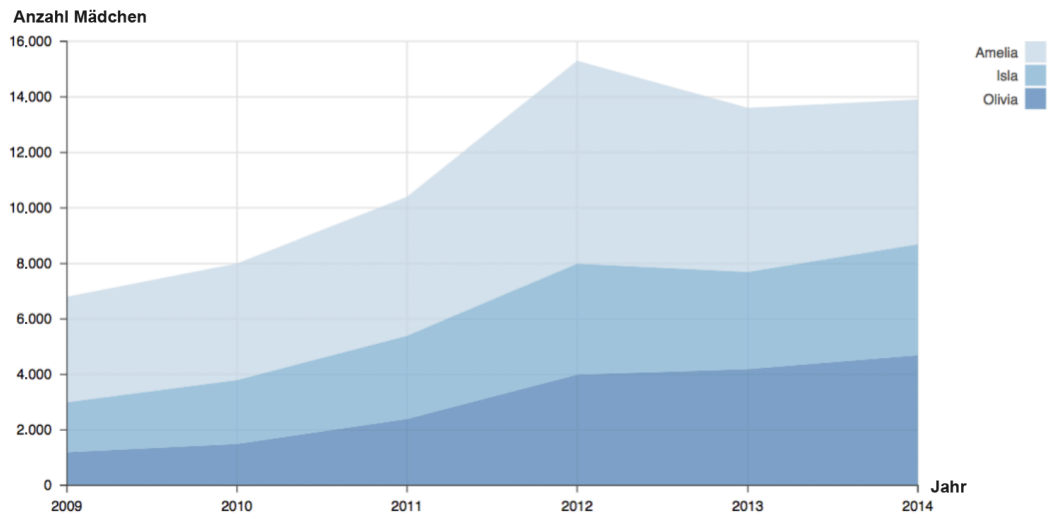
Bitte wählen Sie eine der folgenden Antworten:

Bitte wählen Sie nur eine der folgenden Antworten aus:

- ☐ 2009
- ☐ 2011
- ☐ 2012
- ☐ 2014

Wie groß war die Spanne Anzahl der Mädchen mit dem Namen „Olivia“ in den Jahren zwischen 2009 und 2014?

### Beliebte Mädchennamen im Vereinigten Königreich



\*

Bitte wählen Sie eine der folgenden Antworten:

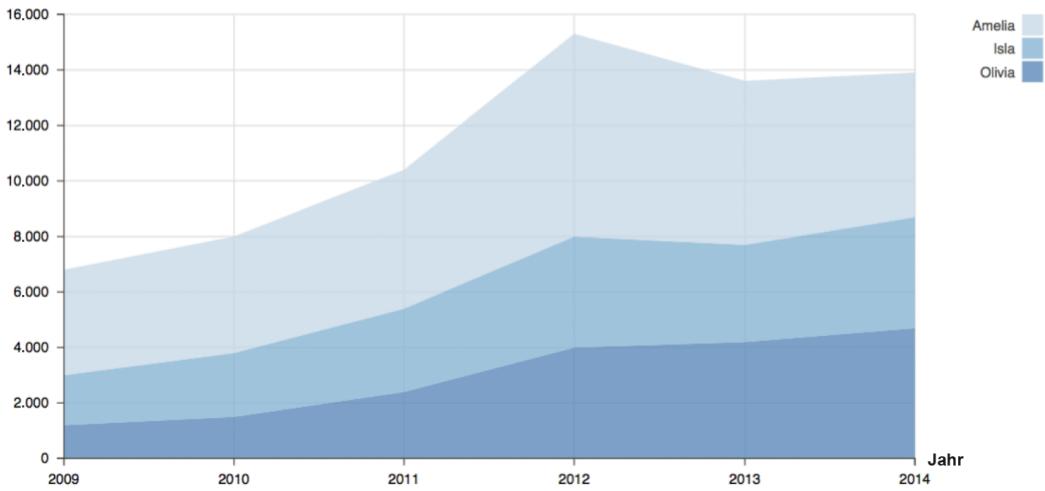
Bitte wählen Sie nur eine der folgenden Antworten aus:

- ☐ 1.200 - 4.700
- ☐ 1.200 - 8.700
- ☐ 1.800 - 4.000
- ☐ 3.000 - 8.700

Die Anzahl der Mädchen mit dem Namen "Isla" ist von 2009 bis 2012

## Beliebte Mädchennamen im Vereinigten Königreich

Anzahl Mädchen



\*

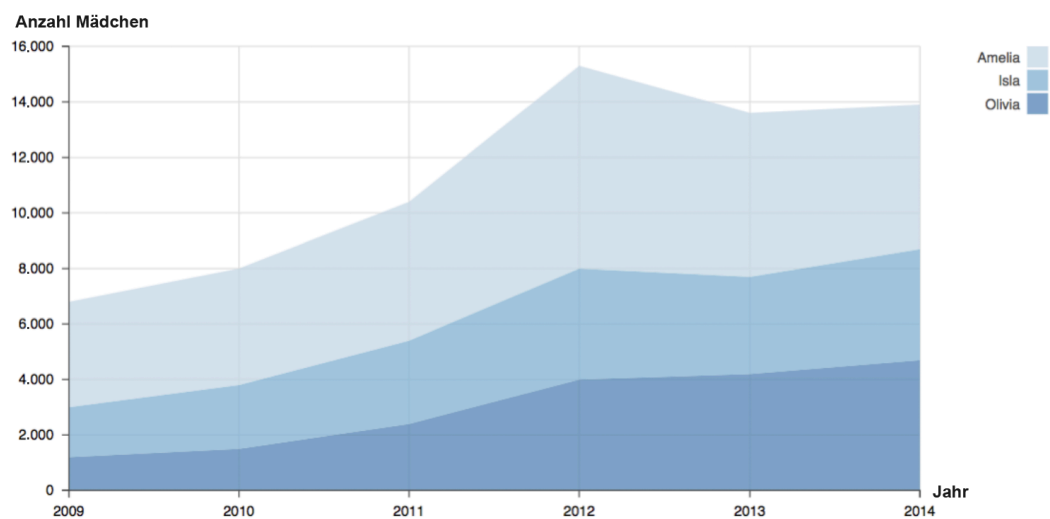
Bitte wählen Sie eine der folgenden Antworten:

Bitte wählen Sie nur eine der folgenden Antworten aus:

- ☐ gestiegen
- ☐ gesunken
- ☐ gleichgeblieben

Im Vereinigten Königreich gab es 2014 mehr Mädchen mit dem Namen „Amelia“ als im Jahr 2013.

## Beliebte Mädchennamen im Vereinigten Königreich



\*

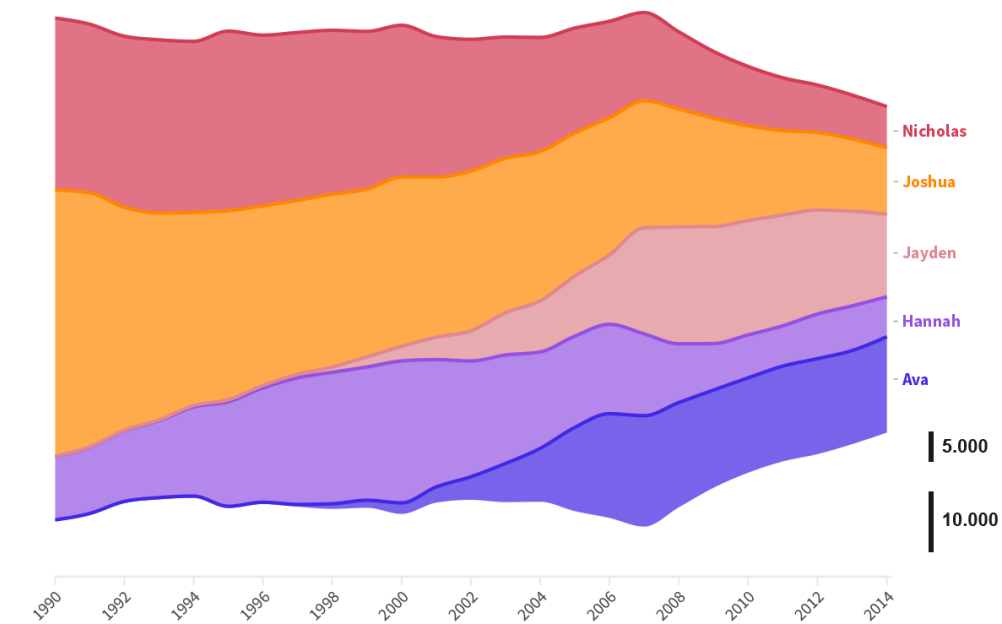
Bitte wählen Sie eine der folgenden Antworten:

Bitte wählen Sie nur eine der folgenden Antworten aus:

- ☐ Richtig
- ☐ Falsch

Wann zwischen 1990 und 2014 wurde der Name "Joshua" am häufigsten vergeben?

## Häufigkeit von Babynamen in Amerika



\*

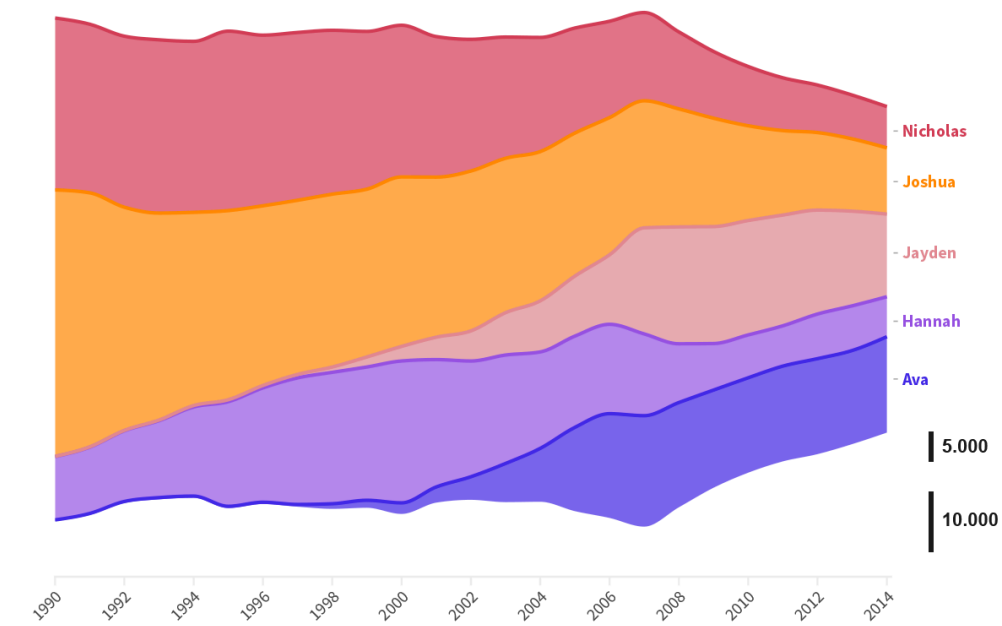
Bitte wählen Sie eine der folgenden Antworten:

Bitte wählen Sie nur eine der folgenden Antworten aus:

- ☐ 1990
- ☐ 1996
- ☐ 2008
- ☐ 2014

Wie groß war die Spanne der Anzahl des Namens "Nicholas" in den Jahren zwischen 2008 und 2014?

## Häufigkeit von Babynamen in Amerika



\*

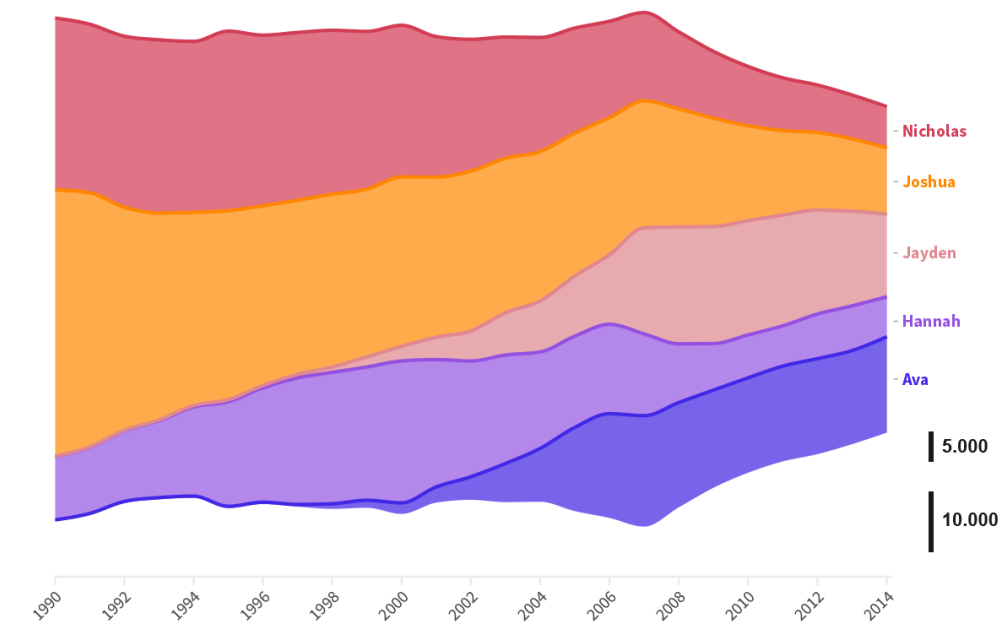
Bitte wählen Sie eine der folgenden Antworten:

Bitte wählen Sie nur eine der folgenden Antworten aus:

- ☐ 5.000 - 12.000
- ☐ 1.000 - 5.000
- ☐ 5.000 - 20.000
- ☐ 3.000 - 14.000

Allgemein nimmt die Beliebtheit des Namen Nicholas zwischen 1990 und 2014 ab.

## Häufigkeit von Babynamen in Amerika



\*

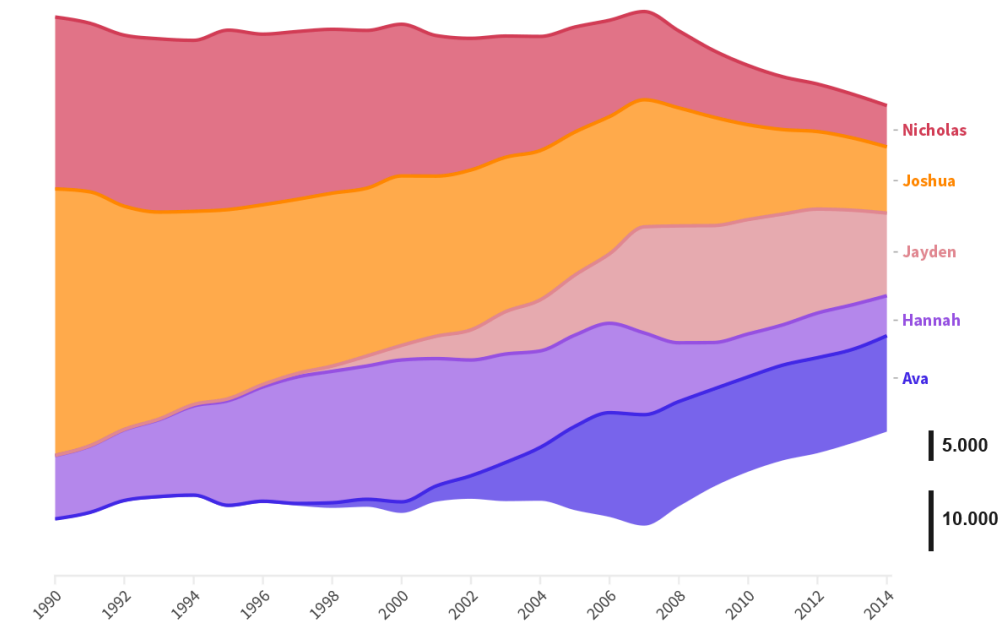
Bitte wählen Sie eine der folgenden Antworten:

Bitte wählen Sie nur eine der folgenden Antworten aus:

- ☐ Richtig
- ☐ Falsch

Im Jahr 2006 war der Name Jayden beliebter als der Name Hannah.

## Häufigkeit von Babynamen in Amerika



\*

Bitte wählen Sie eine der folgenden Antworten:

Bitte wählen Sie nur eine der folgenden Antworten aus:

☐ Richtig

☐ Falsch